

### PRODUÇÃO DE TEXTO

Escolha um dos temas propostos, abaixo, e produza um texto dissertativo.

#### PROPOSTA 1

Pesquisa da Sociedade Brasileira de Cardiologia revelou que 9% dos estudantes de escolas públicas de São Paulo são fumantes. O vício começa cedo (48% dos jovens experimentaram tabaco entre os 13 e os 15 anos) e tem influenciado parentes (75% dos fumantes têm parentes tabagistas). **A surpresa foi a grande incidência do uso de narguilé, instrumento usado para consumir fumo no Oriente, que está virando moda entre os jovens brasileiros.** Mais de 15% dos jovens pesquisados disseram já ter fumado narguilé. O número preocupa os médicos. Segundo Sérgio Ricardo Santos, da **Unifesp**, é falsa a impressão de que fumar narguilé é seguro. 'Ele vicia e possui todas as substâncias tóxicas do cigarro'.

Santos classifica o instrumento como 'a nova epidemia do tabaco'. A pesquisa ouviu 2.829 estudantes da 5ª a 8ª séries do ensino fundamental e do ensino médio.

*(Isto é, 3 de setembro de 2008).*

O texto acima trata de um dos males legais no Brasil, como também o são o álcool e as gorduras trans. Recentemente, autoridades de várias cidades do mundo, como Teresina, São Paulo e Paris, têm adotado leis restritivas sobre o fumo, não se permitindo mais fumar em ambientes fechados ou com presença de não-fumantes. No Brasil, recentemente, foi regulamentada tolerância zero a bebidas e direção. Também, o Ministro da Saúde, José Gomes Temporão, pretende no período de três a cinco anos, banir totalmente as gorduras trans.

Optando por essa proposta, produza uma dissertação acerca da **intervenção do Estado nas liberdades individuais.**

#### PROPOSTA 2

##### ADEUS EMPREGO

A era da prestação de serviços chegou e tem provocado uma revolução no mundo do trabalho. Como enfrentar essa realidade e preparar as futuras gerações para ela? Muitos pais se perguntam como seus filhos trabalharão amanhã. A preocupação é justa. É comum, hoje, consultores profissionais aconselharem a seus clientes que procurem trabalho, não emprego. Na maior parte dos países ocidentais, um número cada vez maior de engenheiros trabalha em projetos temporários, que podem durar um, dois ou três anos, e, após esse período, são demitidos.

*(Revista Planeta, setembro de 2008).*

Optando por essa proposta, produza uma dissertação que procure responder à seguinte questão:  
**O que farão as pessoas que vivem essa situação ou que vêem seus parentes vivê-la?**

Leia o texto abaixo para responder às questões de 01 a 10.

01 É universalmente aceito o fato de que sai mais  
02 cara a reparação das perdas por acidentes de  
03 trabalho que o investimento em sua prevenção. Mas,  
04 então, por que eles ocorrem com tanta frequência?

05 Falta, evidentemente, fiscalização. Constatar  
06 tal fato exige apenas o trabalho de observar obras de  
07 engenharia civil, ao longo de qualquer trajeto por  
08 ônibus ou por carro na cidade. E quem poderá suprir  
09 as deficiências da fiscalização oficial – os sindicatos  
10 patronais ou de empregados – não faz; se não for  
11 por um conformismo cruel, a tomar por fatalidade o  
12 que é perfeitamente possível de prever, terá sido por  
13 nosso baixo nível de organização e escasso  
14 interesse pela filiação a entidades de classe, ou por  
15 desvio de seus interesses primordiais.

16 Falta também a educação básica, prévia a  
17 qualquer treinamento: com a baixíssima escolaridade  
18 do trabalhador brasileiro, não há compreensão  
19 suficiente da necessidade e benefícios dos  
20 equipamentos de segurança, assim como da mais  
21 simples mensagem ou de um manual de instruções.

22 E há, enfim, o fenômeno recente da  
23 terceirização, que pode estar funcionando às  
24 avessas, ao propiciar o surgimento e a multiplicação  
25 de empresas fantasmas de serviços, que contratam a  
26 primeira mão-de-obra disponível, em vez de  
27 selecionar e de oferecer mão-de-obra especializada.

(O Estado de São Paulo – 22 de Fevereiro  
de 1998 – adaptado)

01. Assinale a única opção em que a palavra apresentada não pertence ao grupo de palavras-chave do texto.

- A) Prevenção de acidentes
- B) Empresas fantasmas
- C) Fiscalização
- D) Educação
- E) Terceirização

02. Observe que o pronome “eles”, (linha 4), refere-se a “acidentes de trabalho” (linha anterior). Nas frases indicadas pelas letras (A) a (E), a seguir, também se faz uso de recurso anafórico, ou seja, que retoma uma idéia anterior. Em uma delas, esse recurso está mal empregado. Assinale-a.

- A) A firma fechou depois de um mês de funcionamento. Isto se deveu à má administração do proprietário.
- B) Ouvi duas belas canções, uma de Djavan e outra de Paulinho Nogueira. “Nem um dia”, daquele; e “Menina”, deste.
- C) Mostrei o melhor caminho aos turistas. Estes me agradeceram muito.

- D) “Se você não se cuidar, a Aids vai te pegar”. Essa frase, de uma campanha de prevenção, não apresenta uniformidade de tratamento.
- E) Fui ao Museu da Independência. Lá encontrei informações interessantíssimas.

03. “É universalmente aceito o fato” pode ser transposta para a voz passiva sintética, cuja concordância deve ser feita com o sujeito **fato**. A frase fica assim: “Aceita-se universalmente o fato”. Marque, dentre as opções abaixo, a única em que **NÃO** há pronome apassivador se, e sim índice de indeterminação do sujeito.

- A) Constatou-se tal fato.
- B) Pensa-se em um mundo melhor.
- C) Observaram-se excelentes obras de engenharia civil.
- D) Suprem-se deficiências da fiscalização oficial.
- E) Contrata-se a primeira mão-de-obra disponível.

04. O substantivo composto “mão-de-obra”, presente no último parágrafo do texto, faz seu plural somente na primeira palavra: “mãos-de-obra”. Acerca desse assunto, assinale o único substantivo composto cujo plural esteja **inadequado**.

- A) Beijas-flores.
- B) Guardas-civis.
- C) Salários-família.
- D) Palmas-de-santa-rita.
- E) Reco-recos.

05. No trecho: “Não há compreensão suficiente da necessidade (...)”, o termo destacado classifica-se como

- A) objeto direto.
- B) objeto indireto.
- C) complemento nominal.
- D) sujeito.
- E) agente da passiva.

06. No trecho: “E há, enfim, o fenômeno recente da terceirização, **que** pode estar funcionando às avessas”, o pronome relativo destacado desempenha função sintática de

- A) sujeito.
- B) objeto direto.
- C) predicativo do sujeito.
- D) adjunto adverbial.
- E) agente da passiva.

07. No mesmo trecho da questão anterior, ocorre a crase em “às avessas” por se tratar de locução adverbial feminina. Nos exemplos abaixo, há um erro no que tange à crase. Assinale-o.
- A) Prefiro a pintura da direita à da esquerda.  
 B) Em “Alves e Cia”, Eça de Queiroz trata de um triângulo amoroso à brasileira.  
 C) Esta marca é igualzinha àquela.  
 D) A professora à quem devo minhas primeiras letras já se aposentou.  
 E) Comunique nossos preços às empresas interessadas.
08. Nas linhas 24 e 25, a oração intercalada “ao propiciar o surgimento e a multiplicação de empresas fantasmas de serviços” classifica-se como subordinada adverbial \_\_\_\_\_, reduzida de infinitivo.
- A) conformativa  
 B) consecutiva  
 C) final  
 D) proporcional  
 E) temporal
09. Na linha 17, ocorre a preposição **com**, em “com a baixíssima escolaridade do trabalhador brasileiro”, cujo valor é de
- A) companhia.  
 B) modo.  
 C) causa.  
 D) meio.  
 E) instrumento.
10. Observe o termo em destaque e assinale a alternativa em que há a sua correta classificação morfosintática: “Os sindicatos patronais ou **de empregados** (...)”.
- A) Locução adjetiva – adjunto adnominal  
 B) Locução adverbial – adjunto adverbial  
 C) Locução prepositiva – adjunto adverbial  
 D) Locução conjuntiva – adjunto adverbial  
 E) Locução adjetiva – aposto
- 5 E Deus chamou à luz Dia; e às trevas chamou Noite. E foi a tarde e a manhã o dia primeiro.  
 6 E disse Deus: Haja uma expansão no meio das águas, e haja separação entre águas e águas.  
 7 E fez Deus a expansão e as águas que estavam sobre a expansão. E assim foi.  
 8 E chamou Deus à expansão Céus. E foi a tarde e a manhã o dia segundo.  
 9 E disse Deus: Ajuntem-se as águas debaixo dos céus num lugar; e apareça a porção seca. E assim foi.  
 10 E chamou Deus à porção seca Terra; e ao ajuntamento das águas chamou Mares. E viu Deus que era bom.  
 11 E disse Deus: Produza a terra erva verde, erva que dê semente, árvore frutífera que dê fruto segundo a sua espécie, cuja semente esteja nela sobre a terra. E assim foi.  
 12 E a terra produziu erva, erva dando semente conforme a sua espécie, e a árvore frutífera, cuja semente está nela conforme a sua espécie. E viu Deus que era bom.  
 13 E foi a tarde e a manhã o dia terceiro.  
 14 E disse Deus: Haja luminares na expansão dos céus, para haver separação entre o dia e a noite; e sejam eles para sinais e para tempos determinados e para dias e anos.  
 15 E sejam para luminares na expansão dos céus, para alumiar a terra E assim foi.  
 16 E fez Deus os dois grandes luminares: o luminar maior para governar o dia, e o luminar menor para governar a noite; e fez as estrelas.  
 17 E Deus os pôs na expansão dos céus para alumiar a terra.  
 18 E para governar o dia e a noite, para fazer separação entre a luz e as trevas. E viu Deus que era bom.  
 19 E foi a tarde a amanhã o dia quarto.  
 20 E disse Deus: Produzam as águas abundantemente répteis de alma vivente; e voem as aves sobre a face da expansão dos céus.  
 21 E Deus criou as grandes baleias, e todo o réptil de alma vivente que as águas abundantemente produziram conforme as suas espécies; e toda a ave de asas conforme a sua espécie. E viu Deus que era bom.  
 22 E Deus os abençoou, dizendo: Frutificai e multiplicai-vos, e enchei as águas nos mares; e as aves se multipliquem na terra.  
 23 E foi a tarde e a manhã o dia quinto.  
 24 E disse Deus: Produza a terra alma vivente conforme a sua espécie; gado e répteis, e bestas-feras da terra conforme a sua espécie. E assim foi.  
 25 E fez Deus as bestas-feras da terra conforme a sua espécie, e o gado conforme a sua espécie, e todo o réptil da terra conforme a sua espécie. E viu Deus que era bom.  
 26 E disse Deus: Façamos o homem à nossa imagem, conforme à nossa semelhança; e domine sobre os peixes do mar, e sobre as aves dos céus, e sobre o

## TEXTO DO LIVRO DO GÊNESIS, Cap. 1, Vers. 1- 31

- 1 “No princípio criou Deus os céus e a terra.
- 2 E a terra era sem forma e vazia; e havia trevas sobre a face do abismo; e o Espírito de Deus se movia sobre a face das águas.
- 3 E disse Deus: Haja luz. E houve luz.
- 4 E viu Deus que era boa a luz; e fez Deus separação entre a luz e as trevas.

gado, e sobre toda a terra, e sobre todo o réptil que se move sobre a terra.

- 27 E criou Deus o homem à sua imagem; à imagem de Deus o criou; macho e fêmea os criou.
- 28 E Deus os abençoou, e Deus lhes disse: Frutificai e multiplicai-vos, e enchei a terra, e sujeitai-a; e dominai sobre os peixes do mar, e sobre as aves dos céus, e sobre todo o animal que se move sobre a terra.
- 29 E disse Deus: Eis que vos tenho dado toda a erva que dá semente, que está sobre a face de toda a terra; e toda a árvore, em que há fruto de árvore que dá semente, ser-vos-á para mantimento.
- 30 E a todo o animal da terra, e a toda a ave dos céus, e a todo o réptil da terra, em que há alma vivente, toda a erva verde será para mantimento. E assim foi.
- 31 E viu Deus tudo quanto tinha feito, e eis que era muito bom. E foi a tarde e a manhã o dia sexto.

### TEXTO DO LIVRO DO GÊNESIS, Cap. 2, Vers. 1-3

- 1 "Assim os céus, e a terra e todo o seu exército foram acabados.
- 2 E havendo Deus acabado no dia sétimo a sua obra, que tinha feito, descansou no sétimo dia de toda a sua obra, que tinha feito.
- 3 E abençoou Deus o dia sétimo, e o santificou; porque nele descansou de toda a sua obra, que Deus criara e fizera."

11. Assinale a única explicação que **NÃO** está de acordo com o texto bíblico.

- A) "E a terra era sem forma e vazia" (Gên. 1, 2): Deus criou o mundo do nada.
- B) ... fez separação entre as águas que estavam debaixo da expansão e as águas que estavam sobre a expansão (Gên. 1, 7): Separação entre as águas da superfície e as nuvens.
- C) "E fez Deus os dois grandes luminares: o luminar maior para governar o dia, e o luminar menor para governar a noite" (Gên. 1, 16): Criação do Sol e da Lua.
- D) "E a terra era sem forma e vazia" (Gên. 1, 2). "E chamou Deus à porção seca Terra" (Gên. 1, 10): Nessas duas passagens, a palavra **terra** tem o mesmo sentido.
- E) "Assim os céus, e a terra e todo o seu exército foram acabados" (Gên. 2, 1): A palavra **exército**, nesta passagem, significa todos os componentes.

12. Use **V**, para verdadeiro, e **F**, para falso, conforme o que é dito sobre o **texto do Livro do Gênesis**.

- ( ) Consultando um dicionário, você verá que a palavra *gênese* é feminina.

- ( ) Quando nos referimos ao livro da Bíblia, dizemos o *Gênese*, porque se refere ao livro, palavra masculina.

( ) Literalmente, *gênese* quer dizer origem.

Assinale a alternativa que contém a seqüência **correta**.

- A) V - V - V  
 B) V - V - F  
 C) V - F - F  
 D) F - F - F  
 E) F - V - F

13. Numere todos os parênteses da **COLUNA - 1** com os números da **COLUNA - 2**, associando o dia à criação, com base no texto bíblico.

#### COLUNA - 1

- ( ) firmamento  
 ( ) vegetais  
 ( ) animais aquáticos  
 ( ) animais alados  
 ( ) terra/mar  
 ( ) quadrúpedes  
 ( ) astros  
 ( ) descanso  
 ( ) dia/noite  
 ( ) homem/mulher

#### COLUNA - 2

- 1 - 1º dia  
 2 - 2º dia  
 3 - 3º dia  
 4 - 4º dia  
 5 - 5º dia  
 6 - 6º dia  
 7 - 7º dia

Assinale a alternativa que contém a seqüência **correta**.

- A) 1-2-3-4-5-6-7-5-3-6  
 B) 1-2-3-4-5-7-7-3-3-7  
 C) 2-3-5-5-3-6-4-7-1-6  
 D) 2-3-5-5-3-6-7-4-6-1  
 E) 2-3-5-5-6-1-6-7-4-3

14. "...conforme a sua espécie...". Lendo o texto bíblico, observamos que essa expressão faz referência

- A) a tudo o que foi criado por Deus.  
 B) a quaisquer seres vivos.  
 C) aos animais, apenas.  
 D) ao homem, especificamente.  
 E) às estrelas.

15. O homem é chamado "rei da criação", "rei da natureza". Essa condição se explica, segundo o texto bíblico, pelo fato de

- A) poder multiplicar-se e encher a Terra.  
 B) ser o único bípede.  
 C) Deus ter criado o homem no último dia.  
 D) ter sido feito à imagem de Deus.  
 E) ter sido abençoado por Deus.

16. "E disse Deus". Esta expressão, no Livro de Gênesis, precede todo e qualquer relato de coisa que Deus criou. Basta que Deus fale para que algo exista. Podemos afirmar que o texto ressalta
- A) a onipotência de Deus.
  - B) a bondade de Deus.
  - C) o livre arbítrio de Deus.
  - D) a espiritualidade de Deus.
  - E) a santidade de Deus.
17. Assinale, dentre os itens abaixo, o único que **NÃO** pode ser considerado característica do estilo bíblico.
- A) Repetição
  - B) Linguagem simbólica, poética, literária
  - C) Emprego de expressões redundantes
  - D) Intenção didática
  - E) Precisão científica
18. Machado de Assis, que comemora centenário de morte em 29 de setembro/2008, foi o primeiro autor da literatura brasileira a desenvolver um caráter filosófico profundo em sua vasta obra. Um dos grandes romances da segunda fase do autor é **Esaú e Jacó (1904)**, que remete o leitor às personagens bíblicas do *Gênesis*, filhos gêmeos de Isaac e Rebeca. Aponte a alternativa que **NÃO** apresenta passagem condizente com as grandes obras da *segunda fase*.
- A) Assim como no texto bíblico, tais obras apresentam características atemporais e universais.
  - B) Diante dos poucos indiferentes leitores que tinha, Machado resolveu provocá-los, com suas conversas, isto é, o famoso diálogo com o leitor.
  - C) Uma característica inconfundível é o microrrealismo psicológico, no qual o autor analisa as atitudes humanas a partir de pequenos atos.
  - D) Intertextualidade e metalinguagem são outros dois momentos de imensa riqueza literária.
  - E) Machado de Assis é um escritor universal. Contudo, sua obra apresenta romances convencionais de um autor conformado com os problemas de seu tempo. Principalmente, com o tema da escravidão.
19. Aponte a alternativa que **NÃO** apresenta autor *afrodescendente* da literatura brasileira e piauiense.
- A) Lima Barreto – Pré-Modernismo.
  - B) Cruz e Sousa – Simbolismo.
  - C) William Palha Dias – Regionalismo Piauiense.
  - D) Gonçalves Dias – Indianismo romântico.
  - E) Cecília Meireles – Modernismo.
20. Os autores relacionados abaixo são todos da Literatura Brasileira de Expressão Piauiense. Aponte a alternativa em que autor(a), obra e período estão relacionados de maneira **incorreta**.
- A) William Palha Dias – Os Irmãos Quixaba – Modernismo.
  - B) Oton Lustosa – Vozes da Ribanceira – Modernismo.
  - C) Francisco Gil Castelo Branco - Ataliba, o vaqueiro – Modernismo.
  - D) O. G. Rego de Carvalho – Rio Subterrâneo – Modernismo.
  - E) Alvina Gameiro – A Vela e o Temporal – Modernismo.

**INSTRUÇÃO:** As questões de número 21 a 26 referem-se ao texto I.

TEXT 01:

### Six in 10 Americans Believe Country Headed for Depression

Published October 7<sup>th</sup>, 2008 Dustin Ensinger  
E-mail - [editor@economyincisis.org](mailto:editor@economyincisis.org)

01. The \$700 billion bailout package was  
02. designed to relieve fears and grow confidence  
03. in the markets, \_\_\_\_\_, (22) according  
04. to a CNN/Opinion Research Corp. poll it did  
05. very little to influence the confidence that the  
06. American people have in the economy.

07. Nearly six in 10 Americans believe that  
08. another depression is likely, according to the  
09. results. [...]

10. An astounding 84 percent of respondents  
11. believe the economy is somewhat or very  
12. poor, with 53 percent saying very poor.

13. But, economists say that while a severe  
14. recession is almost certain [...]

15. "We've been in a recession all year and it's  
16. going to get worse," said Anirvan Banerji,  
17. director of research for the Economic Cycle  
18. Research Institute. "We're going from a  
19. relatively mild recession to a more painful  
20. recession. But we're a long, long way from a  
21. depression."

22. He said that even if the bailout package  
23. completely fails to unfreeze credit markets,  
24. unemployment will still not reach double-  
25. digits. At its highest point in the 1930's  
26. unemployment reached 25 percent.

27. Banerji said social safety nets implemented  
28. during the depression like unemployment  
29. insurance, social security and the Federal  
30. Deposit Insurance Corporation would prevent  
31. the economy from reaching that level.

32. He did warn, however, that the current  
33. recession would likely continue for some time  
34. and cause much more pain for American  
35. families. One reason for that is the information  
36. gleaned from the poll: consumer confidence is  
37. incredibly low, thus consumers will buy less,  
38. leading to more layoffs....

**Source** CNNMoney.com:

<http://www.economyincisis.org/articles/show/1893>

- depression – crise econômica
- somewhat – bastante
- layoff- demissão

21. De acordo com as informações apresentadas no primeiro, segundo e terceiro parágrafos do texto, é correto afirmar que:

- A) a liberação de 700 bilhões de dólares conseguiu resgatar a confiança do mercado americano.
- B) apesar da crise econômica, os americanos se sentem confiantes.
- C) a maioria dos americanos não acreditam em uma crise econômica iminente.
- D) a maioria dos americanos acha que a economia está crescendo.
- E) o pacote de 700 bilhões de dólares lançados no mercado não foi o suficiente para aumentar a confiança dos americanos em sua economia.

22. Marque (F) se o enunciado for **FALSO** e (V) se for **VERDADEIRO**.

- ( ) De acordo com a pesquisa realizada, mais da metade dos americanos acredita na possibilidade de uma outra crise econômica.
- ( ) Anirvan Banerji está otimista quanto à economia americana.
- ( ) Segundo Banerji, a recessão americana traria consequências severas para as famílias americanas e duraria por algum tempo.

Marque a seqüência correta.

- a) V – V – V
- b) F – F – V
- c) V – F – V
- d) V – V – F
- e) F – V – V

23. O conector que preenche corretamente a lacuna entre vírgulas na linha 03 é:

- a) however.
- b) yet.
- c) therefore.
- d) so.
- e) besides.

24. In the sentence "One reason for that is the information gleaned from the poll: consumer confidence is incredibly low, thus consumers will buy less, leading to more layoffs.... (lines 35-38), the word **thus** can be replaced correctly by::

- A) but
- B) nevertheless
- C) yet
- D) so
- E) moreover

25. The pronouns **it** (line 04) and **he** (line 32) refer respectively to:

- A) the poll and American family.
- B) the depression and Banerji.
- C) the confident and the credit.
- D) The \$700 billion bailout package and Anirvan Banerji.
- E) the research and Anirvan.

26. Sobre os elementos lingüísticos retirados do texto, assinale a alternativa correta.

- A) "painful" (linha 19) significa brando.
- B) "poor" (linha 12) é sinônimo de "rich".
- C) "highest" (linha 25) está no comparative de superioridade.
- D) "unemployment" (linha 26) quer dizer desemprego.
- E) "likely" (linha 08) é antônimo de "probable".

INSTRUÇÃO: As questões de número 27 a 30 referem-se ao texto II.

## TEXT II

### Brazil girl dies after being held by ex-boyfriend

Sun Oct 19, 2008 10:59

01. SAO PAULO (Reuters) - A Brazilian  
02. teenager has been declared brain dead after  
03. being held hostage for four days and then  
04. shot by her ex-boyfriend, doctors said late on  
05. Saturday.  
06. In a case that shocked the country, police  
07. say Lindemberg Fernandes Alves kidnapped  
08. Eloa Cristina Pimentel, 15, and her friend last  
09. week and held them in an apartment on the  
10. outskirts of Sao Paulo after the end of a two-  
11. year relationship.  
12. Police stormed the apartment on Friday  
13. after hearing gun shots.  
14. Pimentel was severely wounded in the  
15. head and groin and her friend, Nayara  
16. Rodrigues da Silva, 15, was wounded in the  
17. face. Da Silva is still in hospital but out of  
18. danger.  
19. Police said Alves, 22, was now in custody  
20. and accused of firing the shots.  
21. Da Silva had been freed on Tuesday but  
22. returned on Thursday as part of negotiations  
23. with Alves. The police have come under  
24. criticism for the move...

<http://in.reuters.com/article/worldNews/idINIndia-36045920081019>

27. De acordo com o texto, assinale a alternativa correta.

- A) Eloá foi declarada morta no dia 19 de outubro.
- B) Nayara e Eloá foram mantidas em cativeiro durante uma semana.
- C) Lindemberg manteve Eloá e Nayara em cativeiro porque se sentia traído.
- D) Nayara foi atingida com dois tiros fatais.
- E) Eloá teve morte cerebral um dia após ter sido libertada do cativeiro.

28. Os vocábulos "**kidnapped**" (linha 07) e "**relationship**" (linha 11), no segundo parágrafo, significam, respectivamente,

- A) sequestrou – relacionamento.
- B) atirou – romance.
- C) matou – relação.
- D) libertou – relacionamento.
- E) ajudou – namoro.

29. A conjunção "**but**" (linha 17), no quarto parágrafo, apresenta a idéia de:

- A) conclusão.
- B) finalidade.
- C) contraste.
- D) exemplificação.
- E) adição.

30. A pergunta que **NÃO** pode ser respondida com as informações contidas no texto é:

- A) What happened to Eloá and Nayara?
- B) Why were Eloá and Nayara freed?
- C) How long did the girls stay in the apartment with Lindemberg?
- D) When did Nayara leave the hospital?
- E) Why did Eloá die?

**TEXTO I:**



21. Se puede afirmar que Mafalda

- A) se queja por el dolor de dientes.
- B) no quiere cambiar los dientes porque le parece un desperdicio.
- C) no está conforme con su imagen.
- D) le molesta cambiar lo que ya se gastó.
- E) quiere dientes nuevos.

22. A Mafalda le molesta

- A) el dolor.
- B) sacarse algo que aún sirve.
- C) como andan las cosas.
- D) quedarse con dientes de leche.
- E) cambiar algo nuevo por algo viejo.

23. "todavía" (tercer cuadro) en este contexto expresa

- A) causalidad.
- B) finalidad.
- C) consecuencia.
- D) tiempo.
- E) oposición.

24. "y además..." (tercer cuadro) "este destaque en el texto sirve para relacionar lo anterior a lo que sigue queriendo \_\_\_\_\_ una idea." La alternativa que completa el espacio en blanco es

- A) Añadir.
- B) Rechazar.
- C) Alterar.
- D) Contestar.
- E) Valorizar.

25. "despilfarrando" (último cuadro) significa

- A) Ahorrando.
- B) Economizando.
- C) Derrochando.
- D) Cambiando.
- E) Estropeando.

**TEXTO II:**

**Gabriel García Márquez**  
**Sólo Vine a Llamar por Teléfono**

01 Una tarde de lluvias primaverales, cuando  
 02 viajaba sola hacia Barcelona conduciendo un  
 03 coche alquilado, María de la Luz Cervantes sufrió  
 04 una avería en el desierto de los Monegros.  
 05 Era una mexicana de veintisiete años,  
 06 bonita y seria, que años antes había tenido un  
 07 cierto nombre como artista de variedades.  
 08 Estaba casada con un prestidigitador de  
 09 salón, con quien iba a reunirse aquel día después  
 10 de visitar a unos parientes en Zaragoza.  
 11 Al cabo de una hora de señas  
 12 desesperadas a los automóviles y camiones de  
 13 carga que pasaban raudos en la tormenta, el  
 14 conductor de un autobús destartado se  
 15 compadeció de ella.  
 16 Le advirtió, eso sí, que no iba muy lejos.  
 17 - No importa - dijo María -. Lo único que  
 18 necesito es un teléfono.  
 19 Era cierto, y sólo lo necesitaba para prevenir  
 20 a su marido de que no llegaría antes de las siete  
 21 de la noche. Parecía un pajarito ensopado, con  
 22 un abrigo de estudiante y los zapatos de playa en  
 23 Abril, y estaba tan aturdida por el percance que  
 24 olvidó llevarse las llaves del automóvil. Una mujer  
 25 que viajaba junto al conductor, de aspecto militar  
 26 pero de maneras dulces, le dio una toalla y una  
 27 manta, y le hizo un sitio a su lado.  
 28 Después de secarse a medias, María se  
 29 sentó, se envolvió en la manta, y trató de  
 30 encender un cigarrillo, pero los fósforos estaban  
 31 mojados. La vecina del asiento le dio fuego y le  
 32 pidió un cigarrillo de los pocos que le quedaban  
 33 secos. Mientras fumaban, María cedió a las

34 ansias de desahogarse, y su voz resonó más que  
35 la lluvia o el traqueteo del autobús.

36 La mujer la interrumpió con el índice en los  
37 labios.- Están dormidas - murmuró.

38 María miró por encima del hombro, y vio  
39 que el autobús estaba ocupado por mujeres de  
40 edades inciertas y condiciones distintas, que  
41 dormían arropadas con mantas iguales a la suya.

42 Contagiada por su placidez, María se enroscó en  
43 el asiento y se abandonó al rumor de la lluvia.

44 Cuando se despertó era de noche y el aguacero  
45 se había disuelto en un sereno helado. No tenía  
46 la menor idea de cuánto tiempo había dormido ni  
47 en qué lugar del mundo se encontraban. Su  
48 vecina de asiento tenía una actitud de alerta.

49 - ¿Dónde estamos? - le preguntó María.

50 - Hemos llegado - contestó la mujer.

<http://www.bibliotecasvirtuales.com/biblioteca/literaturalatinoamericana/GabrielGarciaMarquez/solovineallamarportelefono.asp> acesso em 5 de octubre de 2008

26. "cuando viajaba sola **hacia** Barcelona" (l. 1 - 2)  
Podríamos sustituir el destaque sin alterar el sentido  
del texto por

- A) en.
- B) a.
- C) por.
- D) tras.
- E) ante.

27. "un coche alquilado" (l. 2 - 3) es sinónimo de

- A) auto arrendado.
- B) carroza comprada.
- C) moto regalada.
- D) auto regalado.
- E) auto pintado.

28. Marque la alternativa que tiene la secuencia correcta  
de Verdaderas (V) y Falsas (F)

- 1) María de la Luz era una prestidigitadora.
- 2) A María se le descompuso el auto.
- 3) El ómnibus que la cargó se dirigía a un lugar  
distante.
- 4) El ómnibus era nuevo.

- A) V - V - V - V
- B) V - F - F - V
- C) F - V - F - F
- D) V - F - V - V
- E) F - F - F - F

29. "**le** hizo un sitio a **su** lado" (l. 27). Los destaques se  
refieren respectivamente a

- A) sitio - una mujer
- B) María - sitio
- C) conductor - una manta
- D) María - una mujer
- E) conductor - una mujer

30. Existe una oposición en el texto entre las palabras de  
la alternativa:

- A) Avería (l. 4) - percance (l. 23)
- B) Aspecto militar (l. 25) - maneras dulces (l. 26)
- C) Ensopado (l. 21) - mojados (l. 31)
- D) Olvidó (l. 24) - Miró (l. 38)
- E) Mientras (l. 33) - vecina (l. 48)

31. A escala mostra a proporção que existe entre o mundo real e sua representação no papel. Um mapa pode ser milhares ou até milhões de vezes menor que o lugar representado. Com um simples olhar, não há como sabermos a proporção em que o mapa foi desenhado. Por isso, usamos a escala. Suponhamos que a distância entre duas cidades (A e B) é de 7cm no mapa e que a escala aplicada é 1: 8.000.000. Qual das alternativas abaixo representa a distância real entre as duas cidades?

- A) 49 km
- B) 490 km
- C) 56km
- D) 560 km
- E) 342 km

32. Uma formação natural de vegetais é o habitat de muitas espécies de animais e plantas e a sua biomassa por unidade de área é muito superior se comparada com outros biomas. Além disso, os vegetais são uma fonte de riquezas para o homem. A respeito das formações vegetais, herbáceas, há uma proveniente do material orgânico que aparece no curto período de degelo durante a estação "quente" das regiões de clima polar, apresentando apenas espécies que se reproduzem rapidamente e que suportam baixas temperaturas.

A formação vegetal a que o texto acima se refere é

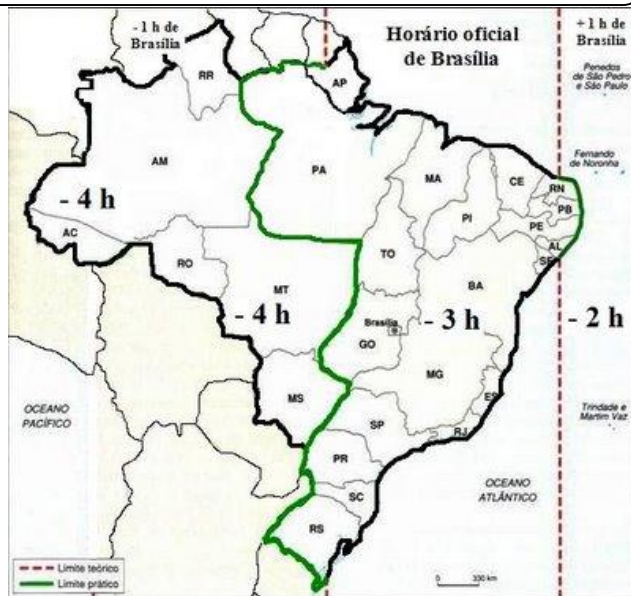
- A) estepe.
- B) tundra.
- C) pradaria.
- D) savana.
- E) taiga.

33. Leia a reportagem abaixo:

**O Diário Oficial da União publicou hoje uma lei que altera o fuso horário no País. Com a mudança, o Acre e parte do Amazonas, que têm duas horas de atraso em relação a Brasília, passarão a ter apenas uma hora de diferença, e todo o Pará terá horário igual ao da capital federal.**

(Fonte: Jornal Último Segundo. Disponível em [ultimosegundo.ig.com.br](http://ultimosegundo.ig.com.br)). Acesso em 28.10.08

Considerando os fusos-horários do Brasil no mapa abaixo, responda à questão:



Um avião parte de São Paulo às 12 horas do dia 28 de outubro com destino ao Rio Branco. Sabendo que a viagem tem a duração de 6 horas e que a capital paulista encontra-se no horário de verão, marque a alternativa que apresenta o horário da chegada na capital do Acre.

- A) 14h
- B) 15 h
- C) 16 h
- D) 13 h
- E) 12 h

34. Leia o fragmento abaixo.

**Agência Nacional pesquisa existência de petróleo no PI.**

*Em estudos sísmicos realizados em áreas da bacia do rio Parnaíba, localizada ao sul do município de Floriano, nas áreas do assentamento Cachoeira, região sul do Estado, foram encontrados indícios concretos da existência de gás natural e petróleo que, se constatados, podem ir a leilão em meados de 2009. A informação foi divulgada pelo presidente da Agência Nacional de Petróleo (ANP), Haroldo Borges, em sua passagem por Teresina.*

(Fonte: [www.meionorte.com.br](http://www.meionorte.com.br). Acesso em 28.10.08)

Sobre as estruturas geológicas do Piauí e o seu potencial econômico, marque a alternativa **correta**.

- A) No Piauí, devido a sua constituição geológica sedimentar do paleo-mesozóico, encontramos grandes reservas petrolíferas no Sudeste do Estado, área dos Sertões Semi-áridos piauienses.
- B) Devido à presença de grandes terrenos cristalinos metamorfizados do Proterozóico no litoral, temos um grande potencial mineralógico no Norte do Piauí.

- C) No extremo leste do estado, na fronteira com o Ceará, formou-se um conjunto de cadeias montanhosas terciárias que proporcionam chuvas orográficas, gerando um grande desenvolvimento agrícola no Piauí.
- D) A Bacia Sedimentar do Maranhão – Piauí, formada nas eras Paleozóica e Meozóica, a partir de escudos cristalinos circunvizinhos, reflete-se em altos níveis de permeabilidade, muito importante para a formação dos lençóis de água subterrâneos no Piauí.
- E) A grande glaciação do Paleozóico, com o soterramento de antigas florestas, resultou na formação de províncias carboníferas no sul do Piauí, contribuindo para o aproveitamento da rocha de hulha no estado.

35. Após sua formação, a Terra passou por um longo período de resfriamento, transformando-se de uma massa gasosa aquecida em um planeta dotado de ar, água, rochas, minerais e solo, isto é, com condições que tornaram possível a existência da vida. Para sistematizar o estudo da evolução da Terra, dividiu-se a sua idade em eras, períodos, épocas, idades e fases. Sobre as Eras Geológicas faça a correlação entre as colunas.

1. Cenozóica
2. Mesozóica
3. Paleozóica
4. Pré-Cambriana

- ( ) Formação da vida aquática - invertebrados, peixes, anfíbios e vegetação - nos continentes; desenvolvimento do processo de sedimentação; formação do carvão mineral.
- ( ) Aparecimento do homem e dos mamíferos; formação dos dobramentos modernos e de grandes glaciações.
- ( ) Os continentes dessa era eram formados por rochas metamórficas e ígneas. Acredita-se que nelas estavam localizadas as maiores reservas de minérios e pedras preciosas. Essa era, também, marca o início da vida no planeta onde se encontraram fósseis de 2 bilhões de anos originados de algas, medusas e bactérias.
- ( ) É bastante conhecida como a Idade dos Répteis por causa de aparecimento de dinossauros, além de moluscos e outros. O clima do planeta nesse período era quente, uniforme e tendia para o resfriamento dos pólos. Já se podia observar a formação dos continentes do sul. Seu período de duração foi entre 140 e 160 milhões de anos que se dividem em períodos denominados Triássico, Jurássico e Cretáceo. Durante esses períodos ocorreram grandes transformações no cenário do planeta como a extinção dos dinossauros.

A seqüência correta, de cima para baixo, é:

- A) 1 3 4 2
- B) 4 3 2 1
- C) 1 3 2 4
- D) 3 1 4 2
- E) 2 1 4 3

36. Leia a reportagem abaixo:

### Terremoto no Paquistão deixa pelo menos 170 mortos.

*Um forte terremoto surpreendeu a população do sudoeste do Paquistão na madrugada desta quarta-feira (29), provocando a morte de pelo menos 170 pessoas. Cerca de duas mil frágeis construções foram destruídas em um momento no qual a maioria da população afetada ainda dormia. O tremor chegou a 6,4 graus na escala Richter, segundo informações do Instituto de Pesquisa Geológica dos Estados Unidos.*

[http://jc.uol.com.br/2008/10/29/not\\_183571.p hp](http://jc.uol.com.br/2008/10/29/not_183571.p hp). Acesso em 29.10.08

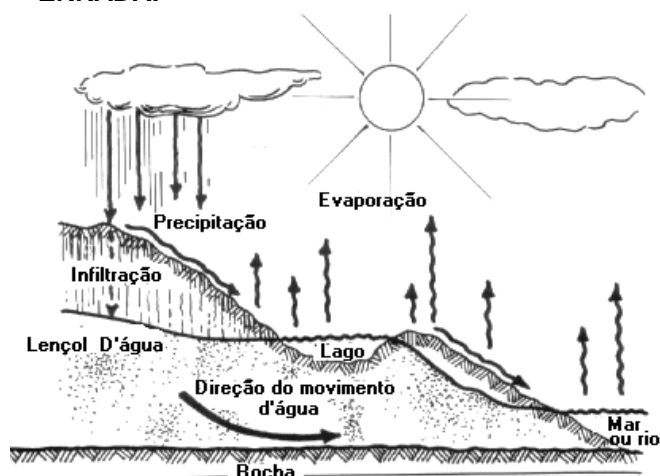
O mundo, neste ano, tem sido marcado por uma incidência atípica de abalos sísmicos, que estão promovendo destruições em cidades. Sobre eles, observe as proposições abaixo.

- I) Os agentes que provocam terremotos se desenvolvem no interior da Terra, a partir de movimentos de placas tectônicas, ou tectonismo, e por atividade vulcânica, ou vulcanismo. Ambos acumulam uma grande quantidade de energia que, para ser liberada, é expelida pelas fendas das rochas e aberturas de vulcões. Essa liberação é o terremoto propriamente dito.
- II) Anualmente ocorre uma grande incidência de abalos sísmicos ao longo da crosta terrestre e de seu interior, que oscilam em relação à intensidade. Apesar da ocorrência de milhares de tremores no mundo, somente uma restrita parcela é percebida pelas pessoas. Devido às diversas intensidades, as conseqüências também variam, pois podem ocasionar desde um desconforto até a destruição total ou parcial de uma cidade, e deixar milhares de pessoas desabrigadas, devido à condenação das casas pela defesa civil.
- III) O terremoto é um dos fenômenos da natureza que mais causam preocupações ao homem, pois suas conseqüências podem ser profundas, tanto para as sociedades e suas construções como para a própria Terra, como o tremor do solo, alteração no movimento de rotação da Terra, laterização dos solos, formação de fiordes, *tsunamis*, surgimento de falhas, deslizamentos de terra, além da destruição das construções feitas pelas sociedades.

Assinale a seqüência correta:

- A) Apenas I e II são corretas.
- B) Apenas II e III são corretas.
- C) Apenas I e III são corretas.
- D) Nenhuma é correta.
- E) Todas são corretas.

37. A água da Terra, que constitui a hidrosfera, distribui-se por três reservatórios principais: os oceanos, os continentes e a atmosfera, entre os quais existe uma circulação contínua, chamada de ciclo da água ou ciclo hidrológico. Este ciclo é responsável pela renovação da água no planeta. Em se tratando do ciclo hidrológico na terra, observe a figura abaixo e marque a alternativa **ERRADA**:



- A) O ciclo da água inicia-se com a energia solar que incide na Terra. A transferência da água da superfície terrestre para a atmosfera, passando do estado líquido ao estado gasoso, processa-se através da evaporação direta, por transpiração das plantas e dos animais e por sublimação (passagem direta da água da fase sólida para a de vapor).
- B) O vapor de água é transportado pela circulação atmosférica e condensa-se após percursos muito variáveis, que podem ultrapassar 1000km. Poderá regressar à superfície terrestre numa das formas de precipitação (por exemplo, chuva, granizo ou neve), ou voltar à atmosfera mesmo antes de alcançar a superfície terrestre (através de chuva miúda quente).
- C) O ciclo hidrológico é um dos pilares fundamentais do ambiente, assemelhando-se, no seu funcionamento, a um sistema de destilação global. O aquecimento das regiões tropicais, devido à radiação solar, ocorre em menor quantidade e provoca a evaporação intermitente da água dos oceanos, que é transportada, sob a forma de nuvens pela circulação local da atmosfera, para outras regiões. Durante a transferência, parte do vapor de água condensa-se devido ao arrefecimento formando nuvens que originam a precipitação.

- D) Quando uma chuva cai, uma parte da água se infiltra por meio dos espaços que encontra no solo e nas rochas. Pela ação da força da gravidade, essa água vai se infiltrando até não encontrar mais espaços, começando então a se movimentar horizontalmente em direção às áreas de baixa pressão. A única força que se opõe a este movimento é a força de adesão das moléculas de água às superfícies dos grãos ou das rochas por onde penetra. A água da chuva que não se infiltra, escorre sobre a superfície em direção às áreas mais baixas, indo alimentar diretamente os riachos, rios, mares, oceanos e lagos.
- E) O caminho subterrâneo das águas, no ciclo hidrológico é o mais lento de todos. A água de uma chuva que não se infiltrou levará poucos dias para percorrer muitos e muitos quilômetros. Já a água subterrânea poderá levar dias para percorrer poucos metros. Havendo oportunidade, esta água poderá voltar à superfície, através das fontes, indo se somar às águas superficiais, ou então, voltar a se infiltrar novamente.

38. De acordo com a pesquisa Síntese dos Indicadores Sociais do Brasil, baseada nos números da Pesquisa Nacional por Amostra de Domicílios (PNAD – 2007) e divulgada recentemente pelo Instituto Brasileiro de Geografia e Estatística (IBGE), os dados relativos à evolução da Taxa de Fecundidade em nosso país demonstram mudanças no padrão de fecundidade da mulher brasileira nas últimas décadas. Abaixo, a gravura mostra o número de filhos por mulher em idade reprodutora durante o período de 1970 até os dias atuais.





Fonte: Revista Veja, 30 de julho de 2008. p. 67.

Julgue os itens que seguem, considerando as informações do texto e a gravura apresentados, bem como outros assuntos a eles relacionados e assinale a alternativa correta.

- Segundo os dados apresentados, a evolução da taxa de fecundidade no Brasil em função do tempo foi linear e crescente, apenas com variações entre as diversas regiões do país, pois a população brasileira não diminuiu nas últimas décadas.
- Conforme o texto, apesar de a taxa de fertilidade da mulher brasileira apresentar declínio nos últimos anos, espera-se um aumento de 50% nos próximos 35 anos, uma vez que a atual taxa não é considerada ideal para a reposição populacional no Brasil.
- O Brasil, cujo declínio populacional é registrado na gravura, evidencia uma mudança no perfil de crescimento a partir da queda observada na taxa de fecundidade e do aumento da participação relativa de jovens no total da população.
- Na gravura, observa-se que o declínio na fecundidade brasileira decorrerá do aumento populacional em alguns estados cujos indicadores socioeconômicos apontam para a necessidade de melhoria quanto ao nível de desenvolvimento social.
- A redução da taxa de fecundidade no Brasil, sugerida no texto, tem como causa uma conjugação de fatores, entre eles o aumento da participação da mulher no mercado de trabalho e a facilidade de acesso aos métodos contraceptivos

39. **ISRAEL AOS 60 ANOS**

**O Estado israelense firma-se como a mais moderna economia do Oriente Médio, mas não consegue superar os conflitos que o acompanham desde seu nascimento.**

“ [...] Festas, shows, fogos de artifício e atos oficiais marcaram o sexagésimo aniversário de Israel. No Parlamento, em Jerusalém, o convidado especial foi o presidente dos Estados Unidos, George W. Bush, que reafirmou o apoio de seu governo à luta de Israel contra os grupos que chamou de ‘terroristas’. As festividades não escondem o fato, porém, de que os israelenses vivem há seis décadas em estado de permanente tensão, tal como seus vizinhos palestinos. [...] “

(Atualidades Vestibular 2009. Editora Abril. 2008. p.56)

Com base no texto acima e nos conhecimentos sobre a origem e evolução da questão árabe-israelense, considere as afirmativas a seguir.

- A questão árabe-israelense teve início nas últimas décadas do século XX quando tomou impulso a empreitada judaica de criar o Estado de Israel na Palestina e de trocar terras por paz, concedendo os territórios ocupados aos árabes da região do Oriente Médio.
- Durante o período da Guerra Fria, os Estados Unidos, que apoiavam os árabes da região da Palestina, e a União Soviética, que apoiava Israel, forneceram armas às partes em conflito tornando impossível um acordo que promovesse a paz entre eles.
- O Hamas, acusado pelo Estado de Israel do seqüestro e morte de soldados na região da Faixa de Gaza, é um grupo fundamentalista islâmico que luta pela formação do Estado Independente da Palestina e se opõe à existência do Estado de Israel.
- O grupo extremista judeu Hezbollah luta pela desocupação israelense na Cisjordânia e pela demarcação de Jerusalém, localizada nas Colinas de Golã, como território independente, devido à sua importância religiosa para judeus, muçulmanos e budistas.
- Uma solução rápida e pacífica para o conflito árabe-israelense parece muito distante, pois os acontecimentos no Oriente Médio tendem a ser controlados pelos extremistas, principalmente islâmicos, que influenciam multidões tomadas pela emoção e pela fúria ou pelo desejo de vingança.

Estão corretas apenas as afirmativas

- I e III.
- II e IV.
- III e V.
- II e III.
- IV e V.

40.

“ [...] Nos países do leste europeu que estão sendo incorporados à União Européia, os custos salariais não admitem por enquanto comparação, porque são cinco vezes menores. O custo por hora é de 6,02 euros na Eslováquia e 6,3 euros na República Checa, contra 20,6 na Espanha, 28,6 na Alemanha e 30,3 na França. [...]”

([http://www.cnmcut.org.br/sgc\\_data/publicacao/pdf/pub109.pdf](http://www.cnmcut.org.br/sgc_data/publicacao/pdf/pub109.pdf), acesso em 23/10/2008)

Assinale a alternativa que completa de forma CORRETA a idéia abordada no trecho acima, sobre a expansão do bloco econômico regional denominado União Européia (U.E) nos últimos anos em direção ao leste europeu.

- A) A República Tcheca e a Eslováquia, que constituíam a antiga Tchecoslováquia, são países do antigo bloco capitalista norte-americano e já apresentavam considerável desenvolvimento industrial no contexto do período internacional da Guerra Fria.
- B) A entrada de alguns países do leste europeu na União Européia, em condições iguais às dos membros mais antigos, dá-lhes grandes vantagens competitivas, já que possuem custos de produção menores, atraindo investimentos industriais.
- C) Com mão-de-obra altamente qualificada e numerosa, infra-estrutura criada pelo Estado e com os incentivos fiscais, esses países passaram a atrair investimentos transnacionais, que buscam o aumento de custos para melhor competir no mercado mundial.
- D) Durante a Guerra Fria, esses países, recém-incorporados à U.E, adotaram o socialismo como um fator atrativo para as indústrias transnacionais ali se instalarem, já que estas são dependentes do capital estatal, e para uma maior inserção na economia globalizada.
- E) Esses novos membros da União Européia aproveitam os altos índices de crescimento industrial nos países mais ricos da Europa nas últimas décadas, como Inglaterra e França, apresentando-se como áreas de expansão da indústria automobilística no interior da Europa.

41. Tendo o texto abaixo como referência inicial e considerando as informações sobre a atual conjuntura mundial. Analise as alternativas que se seguem:

“Apesar da ampliação dos mercados, a globalização da economia e o crescimento dos fluxos de mercadorias reafirmam a desuniformidade do espaço terrestre e dão visibilidade à sua heterogeneidade e à sua diversificação pela ação das sociedades que o modelam.”

(Iná E. Castro. Geografia política, território, escalas de ação e instituições. Bertrand Brasil, 2006, p. 234.).

As alternativas abaixo, a serem analisada, abordam, direta ou indiretamente, aspectos da atual conjuntura mundial marcada pela globalização e regionalização, com exceção de uma. Assinale-a.

- A) A globalização, como fenômeno em curso no mundo, é caracterizada pela integração de mercados, levando o crescimento econômico a todas as regiões, articuladas segundo um processo equitativo de distribuição de riqueza.
- B) Para a inserção de países como o México na nova realidade econômica mundial, as organizações financeiras internacionais, como o FMI, exigem a reforma do Estado por meio da adoção de mecanismos econômicos neoliberais.
- C) Em função da busca de competitividade e da heterogeneidade do espaço mundial, as empresas se dirigem a locais onde haja vantagens comparativas, como mão-de-obra qualificada e barata e infra-estrutura adequada.
- D) A crise do Estado Nacional como condutor da economia e gestor do território, a elevação das taxas de desemprego estrutural e o aumento da exclusão social são fatores associados ao atual processo de globalização.
- E) Essa nova etapa de desenvolvimento capitalista faz da informação científica sua principal matéria prima, chamada tecnologia moderna ou high-tech. Os países que estão à frente desse processo são Estados Unidos, Japão e Alemanha.

#### 42. AS MAIORES AGLOMERAÇÕES URBANAS DO MUNDO ( 2007/2010).

2007		
Posição	Região Metropolitana	População ( em milhões de habitantes)
1º	Tóquio(Japão)	35,7
2º	Nova York(EUA)	19,0
3º	Cidade do México( México)	19,0
4º	Mumbai (Índia)	19,0
5º	São Paulo ( Brasil)	18,8
6º	Nova Délhi( Índia)	15,9
7º	Xangai ( China)	15,0
8º	Calcutá ( Índia)	14,8
9º	Daca(Bangladesh)	13,5
10º	Buenos Aires (Argentina)	12,8

2010		
Posição	Região Metropolitana	População (em milhões de habitantes)
1º	Tóquio(Japão)	36,1
2º	Mumbai (Índia)	20,1
3º	São Paulo ( Brasil)	19,6
4º	Cidade do México( México)	19,5
5º	Nova York(EUA)	19,4
6º	Nova Délhi( Índia)	17,0
7º	Xangai ( China)	15,8
8º	Calcutá ( Índia)	15,6
9º	Daca(Bangladesh)	14,8
10º	Buenos Aires (Argentina)	13,1

Fonte: ONU, World Population Prospects, 2007.

De acordo com os dados das tabelas acima e com base nos seus conhecimentos sobre a urbanização mundial, é correto afirmar que

- A) o crescimento urbano nas cidades dos países emergentes como São Paulo, Buenos Aires e Daca, reduz o grau de dependência em relação às grandes potências do G-7.
- B) neste início de século, a urbanização passou a ser encarada como um acontecimento muito rápido, momentâneo e restrito aos países em desenvolvimento.
- C) as elevadas taxas de crescimento urbano nos diversos países da Ásia Meridional indicam o predomínio das atividades ligadas ao setor secundário da economia.
- D) a urbanização é um fenômeno que não segue o processo lento da infra-estrutura espacial e em muitas áreas do globo terrestre está ocorrendo de forma descontrolada.
- E) todas as cidades que apresentam população superior a 10 milhões de pessoas estão situadas nas zonas intertropicais do globo, portanto nos países periféricos.

43.

“ [...] Perduram imagens obsoletas sobre a região amazônica, verdadeiros mitos. Não apenas os mitos tradicionais da terra exótica e dos espaços vazios, mas também mitos recentes que obscurecem a realidade regional e dificultam a elaboração de políticas públicas adequadas ao seu desenvolvimento. Nas últimas décadas do século XX, mudanças bem mais drásticas ocorreram na região, tanto no que se refere a aspectos políticos e econômicos quanto no que diz respeito a políticas públicas. As populações regionais se organizam e

se tornam atores políticos significativos, a cooperação internacional financeira e tecnocientífica assume influência crescente, e o terceiro setor emerge como mediador de interesses diversos, reduzindo o papel do Estado.[...]”

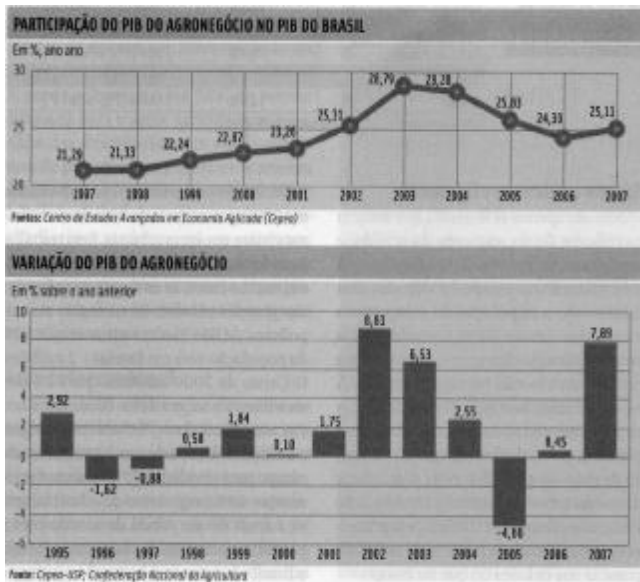
(B. K. Becker. Amazônia: nova geografia, nova política regional e nova escala de ação. In: M. Coy e Kohlhepp (Coords.). Amazônia sustentável. Garamond, 2005, p. 23-4 - com adaptações.)

A partir da leitura do texto acima, julgue os itens abaixo, acerca das transformações sociais e político-econômicas que têm ocorrido na região amazônica e suas perspectivas. Em seguida, assinale a alternativa que contém a seqüência correta.

- ( ) O Plano Amazônia Sustentável(PAS), recentemente apresentado pelo Governo Federal, tem como um dos seus eixos estruturantes a viabilização de atividades de produção sustentável com tecnologia inovadora, estimulando a geração de emprego e renda.
- ( ) A implementação do Plano Amazônia Sustentável(PAS) poderá trazer como consequência para a Amazônia a desarticulação dessa região da dinâmica socioeconômica no Brasil, prevalecendo, então, os interesses locais, isto é, da própria região.
- ( ) Na Amazônia, o avanço da agricultura nas áreas de fronteira agrícola ocorre por meio da recuperação das áreas degradadas utilizadas para o cultivo de produtos, cuja exportação representa uma forma de inserção do Brasil no mercado internacional.
- ( ) O aproveitamento da vastidão das terras da região amazônica por meio da alocação de pequenos produtores rurais, na segunda metade do século XX, desencadeou intenso fluxo migratório para a região.
- ( ) Na Amazônia, a desconcentração da propriedade da terra, decorrente da ocupação desta por pequenos agricultores, direcionados por programas de assentamento implementados pelo INCRA, possibilitou o fim dos conflitos agrários na região.

- A) V – F – F – F – F
- B) F – V – F – F – F
- C) F – F – F – V – V
- D) V – F – F – F – V
- E) V – F – F – V – F

44.



Partindo das informações dos gráficos acima e tendo em vista seus conhecimentos sobre o panorama do agronegócio no Brasil na atualidade, sua evolução e características principais, assinale a alternativa FALSA:

- A) O Brasil é um importante produtor agrícola que tem ampliado suas exportações, principalmente as do agronegócio. Ganhos em produtividade são reconhecidos em todos os fatores da produção: terra, trabalho e capital.
- B) A expansão de rodovias no país foi um dos fatores responsáveis pelas migrações regionais, fazendo surgirem novas cidades nas áreas de expansão da fronteira agrícola. A participação do transporte fluvial no escoamento da produção agrícola é um fator da expansão da agricultura no Brasil.
- C) A persistência de conflitos agrários e da violência no meio rural brasileiro se deve, apenas, à exclusão do pequeno produtor que cultiva para a sua subsistência, já que o agronegócio apresenta maior rentabilidade.
- D) A expansão agrícola, ao inaugurar novos pólos de crescimento econômico e ao disseminar os programas de assentamento rural, ajudou a eliminar o problema da concentração da propriedade de terras no país.
- E) A industrialização do país é responsável pela modernização da agricultura. Um dos aspectos que compõem esse quadro de modernização é a formação de complexos agroindustriais como aqueles ligados à fruticultura.

45. Sobre os problemas sócio-ambientais urbanos das principais cidades do Piauí, analise as alternativas abaixo e assinale a CORRETA.

- A) O elevado nível de poluição das águas do rio Poti, decorrente do despejo dos esgotos não tratados, faz-se notar pela presença e intensa multiplicação de aguapés, durante determinados períodos do ano, na área urbana de Teresina.
- B) A escassez de áreas verdes, a poluição atmosférica e a concentração de altos edifícios são fatores que, associados, dão origem à intensa ilha de calor e ao processo de inversão térmica que se formam no centro da cidade de Parnaíba.
- C) Todos os esgotos produzidos pela população urbana da cidade de Picos passam por estações de tratamento (ETE's) antes de serem despejados no rio Guaribas. Essa prática não fez desaparecer da cidade, nas últimas décadas, as doenças causadas pela água.
- D) Indústrias, como usinas de asfalto, fábricas de álcool e de açúcar, que se localizam no entorno de Piripiri, liberam na atmosfera grandes quantidades de poluentes que comprometem a saúde da população da periferia da cidade.
- E) No centro da cidade de Floriano, devido à falta de políticas públicas adequadas, o processo de favelização e de formação de cortiços tem crescido e vem contribuindo para intensificar a problemática ambiental do aquecimento municipal.

46. Nós, historiadores, ao contrário do fazem crer as dicotomias, não escrevemos história da margem esquerda ou da margem direita do rio, não podemos optar por habitar a margem do objetivismo ou a margem do subjetivismo. Navegamos por mares infindos.

História: a arte de inventar o passado. Durval Muniz. Pág 29

A partir do fragmento acima e dos conhecimentos sobre o assunto, analise e julgue os itens abaixo e assinale a alternativa correta.

- I. O ato de produzir História se compara a uma viagem que conecta e mistura tempos e espaços, que interpreta coisas e representações, realidade e discurso, razões e sentimentos, matéria e sonho, desejo e obrigação.
- II. O historiador é um cientista que está condenado a navegar no mundo da história, sem nunca poder ancorar em um porto seguro, porque os fatos não cessam de ser alterados ou mudados de forma, pela passagem do tempo.
- III. A História seria fruto das batalhas em torno do poder e da verdade. Dessa forma é um jogo aberto às incertezas, em que, qualquer resultado definitivo é afastado, sendo cada momento resultado das forças presentes em luta.

- A) Apenas o item I está correto.
- B) Apenas o item II está correto.
- C) Apenas o item III está correto.
- D) Todos os itens estão corretos.
- E) Apenas I e II estão corretos.

47. "De algo sempre haveremos de morrer, mas já se perdeu a conta dos seres humanos mortos das piores maneiras que seres humanos foram capazes de inventar. Uma delas, a mais criminosa, a mais absurda, a que mais ofende a simples razão, é aquela que, desde o princípio dos tempos e das civilizações, tem mandado matar em nome de Deus"  
José Saramago.

Julgue as afirmações a seguir como verdadeira (V) ou falsas (F), conforme sejam diretamente relacionadas à afirmação acima.


- ( ) A história das grandes religiões monoteístas – o cristianismo, islamismo e o judaísmo – indica momentos de convivência respeitosa, mas, também, períodos de intolerância entre as diversas religiões. Os diversos fundamentalismos, cristão, judaico e islâmico, comprovam-no.
- ( ) Na Idade Média, a intolerância religiosa se intensificou contra os judeus e os heréticos em geral. Os inquisidores caçavam dissidentes e os obrigavam a confessar sua heresia.
- ( ) Com a formação e consolidação dos Estados nacionais modernos, a intolerância vincula religião e política. O herege religioso é visto como um desafiante da ordem política

monárquica; o dissidente político é encarado como um desafiador do dogma religioso adotado pelo Estado-nação.

- ( ) A intolerância, portanto, tem um fundamento irracional, mas, também, racional. Em nome da segurança, o homem aceita racionalmente a intolerância do Estado contra outros povos e culturas – tomados em geral como um todo homogêneo que ameaça a ordem interna.

- A) V – F – V – F
- B) F – F – F – V
- C) V – V – V – F
- D) V – V – F – V
- E) V – V – V – V

48. Observe a charge:



Fonte: [www.juniao.com.br/weblogarchivescharge\\_cartumindex.html](http://www.juniao.com.br/weblogarchivescharge_cartumindex.html)

Utilize as informações da charge e seus conhecimentos sobre a ética na política do Brasil e analise as informações que seguem:

02. A atividade política se justifica se o político tiver espírito republicano, ou seja, se suas ações, além de buscarem a conquista do poder, forem dirigidas para o bem público, que não é fácil definir, mas que é preciso sempre buscar.
04. A ética da responsabilidade leva em consideração as conseqüências das decisões que o político adota. Em muitas ocasiões o político, necessariamente, é obrigado a tomar decisões que envolvem meios não muito nobres para alcançar os objetivos públicos.
08. O político deve agir de acordo com a ética da responsabilidade, porque essa é a única ética compatível com o espírito republicano. Um grande número de políticos, porém, não age de acordo com ela. Muitos agem imoralmente, como temos visto no Brasil.
10. Há caso em que a imoralidade é apenas em relação aos meios, outros, apenas quanto aos fins mas, geralmente, é uma imoralidade tanto

aos meios quanto aos fins: o político usa de quaisquer meios para atingir seus fins pessoais.

A soma correta é

- A) 16
- B) 12
- C) 20
- D) 18
- E) 24

49. Observe a charge.

**FIDEL RENUNCIA**



A Revolução cubana, por expressar dramaticamente as profundas contradições existentes nas relações entre Cuba e os EUA, pode ser considerada o fato político de maior impacto na História da América Latina em todo século XX. A respeito da Revolução Cubana considere as alternativas abaixo e assinale a alternativa que **NÃO** apresenta uma informação correta.

- A) Não foram os comunistas que promoveram a Revolução Cubana, no contexto da Guerra Fria, embora alguns de seus líderes, como Ernesto Che Guevara e o próprio Fidel Castro, em certa medida, acolhessem idéias marxistas.
- B) A Revolução Cubana foi autóctone, teve um caráter nacional e democrático e a implantação de um regime segundo o modelo dos países do Leste Europeu resultou de uma contingência histórica, não de uma política empreendida pela União Soviética.
- C) Fidel Castro foi o mais importante líder da América Latina, no século XX, e o fato de que permaneceu quase meio século no poder, apesar do bloqueio e de todas as pressões, representou uma grande derrota política para os Estados Unidos .
- D) A ausência explícita de Castro no centro do poder marca um momento especial que coloca em evidência a capacidade de sobrevivência de um regime que resiste em manter um modelo político que hoje deixa cada vez mais clara as suas contradições.
- E) A posição dos EUA aponta cada vez mais para a possibilidade de intervenção no processo de transferência do poder na ilha de Cuba, no

sentido de assegurar um regime democrático e evitar instabilidade, postura esta que recebe apoio das Organizações dos Estados Americanos.

50. A civilização grega é considerada, desde muito tempo, como a mais refinada e expressiva da antiguidade. São muitos os motivos para que se considere a Grécia como a origem da cultura ocidental. Afinal sua literatura, sua arte, e principalmente, sua filosofia e suas práticas políticas influenciaram, e ainda continuam influenciando, boa parte do mundo. Sobre o assunto, leia e julgue as informações abaixo.

- 02. Dentre as inúmeras obras gregas, vale destacar os vasos de cerâmica, finamente decorados com cenas da vida cotidiana, esportes, personagens e a busca da perfeição de formas, com exaltação da figura humana.
- 04. Ensinados desde cedo às crianças, os mitos estavam profundamente enraizados na cultura grega e, particularmente, na literatura, na arte e até mesmo na filosofia. Sua importância ultrapassou a Grécia Antiga e os séculos que nos separam dela.
- 08. Na filosofia, os gregos deixaram uma extraordinária contribuição para o mundo, entre seus maiores expoentes estão Sócrates, Platão e Aristóteles. Sócrates levou a filosofia a tomar um caráter essencialmente humanista e moral.
- 12. Sem dúvida, é preciso ressaltar o nome de Hipócrates de Cós, médico, que conseguiu levantar o espesso véu de credices com relação à Medicina, encarando as doenças como fenômenos naturais.

A soma correta das informações verdadeiras é:

- A) 06
- B) 12
- C) 14
- D) 24
- E) 26

51. Em 17 de abril de 1996, nos arredores de Eldorado dos Carajás (PA), um conflito entre integrantes do MST e a polícia chocou o mundo. Vejamos como a revista *Isto é* noticiou o ocorrido:

*“ Colheita macabra: no Pará, conflito entre a PM e os sem terra faz 19 mortos e mostra a urgência da reforma agrária”.*

Aponte a única consideração **INCORRETA** à respeito do assunto:

- A) O episódio citado no fragmento constitui-se numa bárbara chacina de trabalhadores cometida no país, cujas cenas foram transmitidas por televisões e estampadas em jornais de todo o mundo.

- B) Em razão de sua ligação com o PT e com a militância comunista, o MST foi alvo de uma ampla campanha de desmoralização liderada pelos setores mais conservadores da mídia brasileira.
- C) A concentração de terras nas mãos de poucos proprietários faz com que as tensões aumentem a cada momento, até chegarem à explosões como a do episódio retratado no fragmento.
- D) A pressão do campo tem chegado às cidades com assustadora frequência. Os sem terra realizam marchas de protesto em quase todos os estados do país e mesmo assim suas reivindicações não são ouvidas.
- E) O presidente Lula tem sido mais acessível e mais aberto às questões relativas aos problemas rurais, sendo assim, no seu governo verificou-se um completo arrefecimento dos conflitos entre os sem terra e os latifundiários.

52. Maio 68, auge da década em que os jovens "aceleraram" a história. Analise e julgue os itens a respeito do contexto e dos episódios daquela época.

- **"As paredes têm ouvidos, seus ouvidos têm paredes".**
- **"É proibido proibir".**
- **"Nós somos todos judeus alemães".**
- **"A revolução deve ser feitas nos homens, antes de ser feita nas coisas".**

- I. O AI-5 foi uma reação da repressão aos eventos de 1968. Também, aqui, os estudantes desempenhavam a crítica totalizante e sistêmica, à sociedade capitalista que marcara em todo o mundo o ano de 1968.
- II. O ano de 1968 será lembrado como o da rebeldia, dos sonhos esmagados. Foi o ano que marcou o fim da Primavera de Praga, um experimento de "socialismo com face humana" comandado pelo líder do Partido Comunista da então Checoslováquia, Alexander Dubcek.
- III. Em discursos nas ruas e nas universidades, em cartazes e muros, os estudantes franceses deixaram as salas de aula e se mobilizaram para dar a seus professores, pais e avós, e às instituições e ao governo, "lições" sobre os "novos tempos, a liberdade e a rebeldia".
- IV. Nos Estados Unidos, a opinião pública passou a rejeitar a guerra do Vietnã após ficar chocada com as imagens que a TV mostrava da ofensiva do Tet, momento em que os vietcongs atacaram tropas americanas.

Marque a alternativa correta.

- A) Somente o item I está correto.
- B) Todos os itens estão corretos.
- C) Somente o item II está correto.
- D) Somente o item III está correto.
- E) Todos estão errados.

53. Leia o fragmento:

O discurso da estereotipia é um discurso assertivo, repetitivo, é uma fala arrogante, uma linguagem que leva à estabilidade a crítica, é fruto de uma voz segura e auto-suficiente que se arroga o direito de dizer o que é o outro em poucas palavras.

Julgue como verdadeiras (V) ou falsas (F) as afirmações a seguir, diretamente relacionadas ao fragmento acima:

- ( ) Eu estou contente em me unir com vocês no dia que entrará para a história como a maior demonstração pela liberdade de nossa nação.
- ( ) "Acredito hoje que estou agindo de acordo com o Criador Todo-Poderoso. Ao repelir os Judeus estou lutando pelo trabalho do Senhor."
- ( ) A vida, tal como o fascismo a concebe, é grave, austera, religiosa. O fascismo despreza a vida cômoda, acredita na santidade e no heroísmo.
- ( ) Primeiramente você faz uma revolução no seu país. Daí você pega uns fracos que tenham medo de você e os coloca em cargos importantes. Os opositores desaparecem ou vão para a Sibéria.

A Seqüência correta é

- A) V – F – V – F
- B) F – V – V – V
- C) F – F – F – V
- D) V – V – V – V
- E) F – F – V – V

54. Analise as alternativas abaixo referentes à Implantação da República no Piauí e assinale a opção correta:

- A) David Caldas foi a grande figura republicana da história piauiense no século XIX. Não existe paralelo frente a ele, que atuou, praticamente sozinho, como propagandista de sua utopia política progressista.
- B) A República traria a possibilidade de realinhamento dos antigos grupos conservadores e liberais de Teresina e do Piauí, e, contraditoriamente, não permitiu o surgimento de novas lideranças políticas.
- C) A revolta com o processo de inclusão da República Velha gerou muitos debates por parte de intelectuais. Alguns, como Clodoaldo Freitas, quase sempre na oposição, defendia a necessidade de elitizar o novo regime.
- D) A Maçonaria, ao se posicionar como crítica do novo regime, propõe um modelo alternativo de sociedade fundamentado na união entre as práticas cristãs e o positivismo francês.
- E) Para a Igreja, as idéias modernas do regime republicano contribuiria para diminuir a ignorância da população. Assim, a república

nasce no Piauí com o apoio incondicional da Igreja Católica.

### 55. LÍNGUAS DE FOGO ARDEM SOBRE A CIDADE...

**As casas de palha são incendiadas e a população pobre de Teresina entra em pânico em face da perda iminente ou real de suas moradias.**

A partir das manchetes acima e dos conhecimentos sobre o episódio ocorrido no governo de Leônidas Melo analise e julgue os itens abaixo:

02. Os incêndios possibilitam enxergar, através da historiografia, a elite teresinense ocupada em livrar a cidade das casinhas de palha do povo empobrecido, com a intenção explícita de implementar um plano modernizador, ajustado às linhas do Estado Novo.
04. A polícia levantou a possibilidade de se tratar de incêndios criminosos. A apuração dos culpados pelo fogo foi lenta, ao mesmo tempo em que a cidade não dispunha de aparato para lidar com calamidades desse tipo.
08. Uma das análises históricas que o estudo dos incêndios permite vislumbrar é a violência policial da época da ditadura. Em 1943, pessoas são presas e acusadas da autoria de alguns incêndios na periferia de Teresina.
10. Os incêndios continuaram e se repetiram com intensidade nos anos seguintes, e com as mudanças políticas, os políticos locais fizeram deles armas contra o Estado Novo e contra Leônidas Melo. Os culpados pelos incêndios foram encontrados e julgados, e o governador, afastado.

A soma correta

- A) 06
- B) 12
- D) 14
- D) 16
- E) 24

56. A ditadura foi um forte golpe sobre a música brasileira. Os artistas perderam sua liberdade de expressão diante da violência do governo militar, mas, conseguiram driblar a censura e protestar de forma explícita ou implícita. Veja os exemplos:

**PRA NÃO DIZER QUE NÃO FALEI DE FLORES**

*Pelos campos a fome em grandes plantações,  
Pelas ruas marchando indecisos cordões,  
Ainda fazem da flor seu mais forte refrão,  
E acreditam nas flores vencendo o canhão, (Vandré)*

**A BANDA**

*A minha gente sofrida*

*Despediu-se da dor*

*Pra ver a banda passar*

*Cantando coisas de amor (Chico)*

Analisando as duas músicas, observamos que ambas possuem uma forma de protesto, porém, apresentado de modo diferente por Chico e Vandré.

- I. Podemos dizer que a canção de Vandré é uma afronta direta ao governo e às torturas a que alguns eram submetidos pelos militares.
- II. Apesar de ambos utilizarem a linguagem popular de forma poética, o protesto de Chico, inicialmente, é mais sutil que o de Vandré.
- III. Por causa de seu protesto sutil, Chico é fortemente criticado, acusado de ser lírico e ter letras alienantes.

Estão corretos:

- A) os itens I, II e III.
- B) Somente o item I.
- C) Somente o item II.
- D) Os itens I e II.
- E) Somente o item III.

57. Comparativamente, o escravismo colonial e o trabalho forçado atual guardam inúmeras semelhanças, principalmente no que concerne à supressão dos direitos dos trabalhadores. Leia as proposições acerca da problemática e assinale a afirmação **ERRADA**.

- A) Atualmente, os trabalhadores submetidos a casos de trabalho forçado são, normalmente, pessoas simples, pobres, de pouca cultura e informação, que precisam de um trabalho e que se deixam enganar facilmente.
- B) Os grandes proprietários de terras que pretendem utilizar a mão-de-obra forçada contratam os gatos, que são os recrutadores de trabalhadores. Esses aliciadores percorrem regiões distantes, e fazem promessas de bom pagamento e boas condições de trabalho.
- C) Os empregadores amparados por lei tentam se eximir das responsabilidades, afirmando que cumprem a legislação trabalhista e pagam salário, mas que, em contrapartida, os empregados acabam devendo mais do que recebem.
- D) É fundamental ressaltar a semelhança das condições em que vivem nos locais de trabalho. Tanto antigamente quanto atualmente, a concentração da exploração da mão-de-obra se situa no meio rural.
- E) Para prender os trabalhadores recrutados, os exploradores utilizam-se de mecanismos de endividamento, como retenção de documentos,

cobrança de despesas de viagem, alimentação, hospedagem, adiantamento para a família, compra de equipamentos para o trabalho, entre outras coisas.

58. A questão de como se relacionam o calvinismo e o capitalismo tem sido objeto de enorme controvérsia, estando longe de produzir um consenso entre os estudiosos. O tema popularizou-se a partir do estudo do sociólogo alemão Max Weber (1864-1920) intitulado *A Ética Protestante e o Espírito do Capitalismo*, publicado em 1904-1905. Assinale a opção que faz a relação correta entre o Capitalismo e a Religião Calvinista.

- A) Calvino interessou-se, vivamente, por questões econômicas e existem elementos na sua teologia que certamente contribuíram para uma nova atitude em relação ao trabalho e aos bens materiais, mas negava a fortuna como sinal da graça divina.
- B) Ao analisar o calvinismo, Weber concluiu que entre os puritanos surgiu um "espírito capitalista", que fez do lucro e do ganho um dever. Ele argumenta que esse espírito resultou do sentido cristão da vocação dos protestantes ao trabalho.
- C) Existe uma relação entre o calvinismo e o capitalismo, necessariamente uma relação de causa e efeito. Provavelmente, sem o calvinismo seria difícil o surgimento de alguma forma de capitalismo.
- D) Calvino condenou a usura e procurou limitar as taxas de juros, insistindo que os empréstimos aos pobres fossem isentos de qualquer encargo. Defendeu a justa remuneração dos trabalhadores e combateu a especulação burguesa.
- E) A tese de que as riquezas são sinais de eleição e a pobreza é sinal de reprovação é uma ofensa à ética calvinista. Para Calvino, a propriedade, o lucro e o trabalho deviam ser utilizados para o bem comum.

59. "Maquiavel é talvez um dos autores - como a imensa maioria dos clássicos de qualquer área - mais mal compreendido tanto pela crítica quanto, principalmente, pelo senso comum. A própria significação que se dá ao termo maquiavélico revela esta incompreensão". Ao fazer uma análise historiográfica da obra deste cientista é possível afirmar:

- ( ) Na Itália reina, neste contexto, grande confusão. A tirania impera em pequenos principados governados despoticamente por casas reinantes sem a tradição dinástica ou de direitos contestáveis
- ( ) Um verdadeiro príncipe não deveria hesitar, mesmo que diante da crueldade ou da trapaça, se o que estivesse em jogo fosse a integridade e o bem-estar do seu povo.

- ( ) A concepção da política maquiaveliana fundamenta-se no fato de que é impossível existirem boas leis e boas armas se não houver um homem de Estado ousado e viril, como um modelo a ser seguido.
- ( ) A ilegitimidade do poder gera situações de crise e instabilidade permanente, nas quais somente o cálculo político, a astúcia e a ação rápida e fulminante contra os adversários são capazes de manter o Príncipe no poder.

A seqüência correta é:

- A) V - F - V - F
- B) V - V - V - F
- C) F - V - V - V
- D) V - V - V - V
- E) V - F - F - V

60. Leia as considerações, a seguir a respeito do Fascismo.

- 02. Compreende-se a ascensão do Fascismo num contexto em que tornava necessário suprimir os movimentos organizados pela classe trabalhadora. Então o grande capital aliou-se aos partidos de direita a fim de empreender uma contra-revolução.
- 04. A rejeição à democracia na concepção de Mussolini é um regime fraco diante das pressões que determinados grupos podem exercer e é incapaz de salvaguardar os interesses nacionais. Assim o sistema participativo não passa de um jogo estéril.
- 08. A liberdade degenera o homem, dessa forma o individualismo é nocivo à construção de uma sociedade coesa por enfraquecer o grupo, portanto o indivíduo não tem direito algum em seus particularismos, apenas existe pela comunidade. O homem precisa ser enquadrado e comandado.
- 10. O Fascismo combate o socialismo, porque este é fundado nas lutas de classes que conduz à divisão e ao enfraquecimento do grupo social. Censura, também, o capitalismo internacional fundamentado no liberalismo econômico e propõe a sua substituição pelo capitalismo de Estado.
- 12. O Fascismo é, de fato, uma reação anti-intelectual, uma vitória do instinto, pois prega o culto da ação e proclama a virtude da violência. Assim rejeita o comportamento comandado pela razão e cria uma sociedade desprovida do sentimento de contestação.

A soma correta dos itens verdadeiros é:

- A) 22
- B) 30
- C) 36
- D) 12
- E) 20